



SINDHI HIGH SCHOOL K.K.ROAD, BANGALORE-1

Periodic Test-III 2023-24

Subject: English

Date:07/02/24

CLASS : VIII A/ B/ C

Time: 1Hr.

No. of printed sides:3

General Instructions

This paper contains three sections

Section A – Reading-5 marks

Section B – Writing & Grammar- 10Marks

Section C- Literature-15Marks

All Sections are compulsory

Section A – Reading (5 Marks)

Read the passage given below and answer the questions that follow them:

- I) There has been a lot of research which shows the importance of physical health in avoiding anxiety and depression. The mind and the body are highly interconnected. We can all make fairly easy changes in our lifestyle to include more exercise, healthier eating, getting enough sleep, being exposed to sunlight and so on. Research into exercise has found that it has a positive impact on mood. Physical activity stimulates the release of endorphins in the brain to produce the feel-good factor. Sleep is vitally important for children and adolescents to help concentration levels. A good night's sleep also stops people being bad-tempered and flying off the handle.
- II) Having good relationships is a big part of being happy. In one study, most happy people were found to have strong ties to friends and family and they made sure they spent time with them regularly. You also need at least one person who you discuss personal feelings with – called 'self-disclosure'. Just one person for a heart-to-heart is enough, together with a network of other relationships. It's not enough to have lots of friends just to do things with or chat to about music or football. That deeper connection is all-important.
- III) I would recommend being completely immersed in a pleasurable activity, sometimes called experiencing 'flow'. The activity could be anything from doing judo to painting a picture to playing chess. Typically, the activities require a certain amount of skill and are challenging but not too challenging. If you are experiencing flow, you lose track of time and are immersed in the present moment. You find the activity rewarding for its own sake. People who spend time doing 'high-flow' activities feel more long-term happiness than those doing things like just lounging around or chatting online.
- IV) Be like Superman! Discover what your unique strengths and virtues are and then use them for a purpose which benefits other people or your community. People who play to their strengths (e.g. curiosity or persistence) or virtues (e.g. justice or humanity) and use them in different ways and in different situations are happier than those who focus more on their weaknesses. In other words, focus on the positive, not the negative, and be true to yourself.

- a) How do changes affect our lifestyle? 1  
 b) What kind of connection is important and Why? 1  
 c) When we experience flow \_\_\_\_\_ 2  
 d) Find the synonym of: keep going no matter how tough our circumstances.(para-4) 1

WRITING AND GRAMMAR

(5M)

Attempt ANY ONE of the given below:

II A) The increasing amount of time spent playing indoor games has been a major cause of decreasing the outdoor appearance of children. With this concern, write a speech with a suitable title, to be delivered in the morning assembly in 150-200 words. You are Parag/Pragati.

OR

II B) You are Priya/Piyush. Write a letter to the editor of a daily newspaper regarding the poor condition of roads and streets in your locality.

III)

Do as directed:

Choose the correct passive voice for the following from the given options: (1x5=5M)

I) Who lost my bag?

- a. Who had lost my bag?  
 b. By whom had my bag been lost?  
 c. By whom was my bag lost?  
 d. Who has lost my bag?

ii) Such methods \_\_\_\_\_ (use) by the children to please their elders these days .

- a. are being used  
 b. being used  
 c. use  
 d. used

iii) Anubhav said to me, "Please lend me your bike for a day."(report what Anubhav said)

IV) We're used to have a lot of work to do, so meeting the deadline won't be a problem.  
 (identify the error and write the correction)

ERROR	CORRECTION
.	

V) I have heard this story before. ( identify the adverb in the given sentence)

LITERATURE

LITERATURE

VI) Read the following extract and answer the questions that follow:

(1x4=4M)

“– the fear was killing me.”

1. Identify the lesson?

(a) Princess September (b) Tiger in the House (c) Jalebi (d) A Visit to Cambridge

2. Name the author of the lesson.

(a) William Blake (b) John Keats (c) P B Shelley (d) Ahmed Nadeem Qasmi

3. Who is the speaker of the above lines?

4. What fear was killing the speaker?

(2x3=6)

VII) Answer the following in not more than 40-50 words:

a) What does one learn from the story “A Visit To Cambridge”?

b) Compare and contrast the characters of “Jalebis” and “The Open Window”.

c) What is the speciality about earth? What are the common features between the grasshopper and the cricket?

(5)

VIII) Answer the following in not more than 100 words:

a) My head started to spin. I felt as if I was standing on my head and could not get on to my feet again even if I tried. Master Ghulam Mohammed announced that the fees would be taken during the recess.

With reference to the above dialogue, write an account of your feelings. Imagining yourself to be the boy from the lesson “Jalebi”.



**SINDHI HIGH SCHOOL, BENGALURU**  
**PERIODIC TEST – 3 - 2023-24**

SUBJECT: KANNADA

MAX. MARKS: 30

CLASS : 8

READING TIME: 8:00 AM TO 8:10 AM

DATE: 12 / 02 / 2024

WRITING TIME: 8:10 AM TO 9:10 AM

NO OF PRINTED SIDES: 4

1. ಕೆಳಗಿನ ಗದ್ಯವನ್ನು ಓದಿಕೊಂಡು, ಕೊಟ್ಟಿರುವ ಬಹು ಆಯ್ಕೆ ಪ್ರಶ್ನೆಗಳಿಗೆ ಉತ್ತರಿಸಿ.

1x5=5

ಶ್ರೀಗಂಧದ ತವರು ಮನೆ 'ಕನ್ನಡನಾಡು' ಮೈಸೂರು ಸಂಸ್ಥಾನದ ನಾಲ್ವಡಿ ಕೃಷ್ಣರಾಜ ಒಡೆಯರ್ ಅವರು ಜಗತ್ತಿನ ಶ್ರೇಷ್ಠ ರಾಜರಲ್ಲಿ, ಆಡಳಿತಗಾರರಲ್ಲಿ, ಪ್ರಜಾಚಿಂತಕರಲ್ಲಿ, ದೇಶಾಭಿವೃದ್ಧಿ ಚಿಂತಕರ ಸಾಲಿನಲ್ಲಿ ಅಗ್ರಮಾನ್ಯರು. ಇದಕ್ಕೆ ಅವರ ಆಡಳಿತವೇ ಪ್ರಗತಿಗೆ ಸಾಕ್ಷಿಯಾಗಿತ್ತು. ಅವರ ಫಲವೇ ಇಂದಿನ ಕರ್ನಾಟಕದ ಅಭಿವೃದ್ಧಿ ಮತ್ತು ಗೌರವ ಎನ್ನಬಹುದು.

ಶತಮಾನದ ಇತಿಹಾಸವಿರುವ 'ಮೈಸೂರು ಸ್ಯಾಂಡಲ್ ಸೋಪ್' ಇಂದಿಗೂ ತನ್ನ ಸುವಾಸನೆಯಿಂದ ಜಗತ್ತಿನ ಮಾರುಕಟ್ಟೆಯಲ್ಲಿ ತನ್ನ ಸ್ಥಾನವನ್ನು ಕಾಪಾಡಿಕೊಂಡಿದೆ. ಶ್ರೀಗಂಧದ ಎಣ್ಣೆಯಿಂದ ತಯಾರಾಗುತ್ತಿರುವ ಏಕೈಕ ಸಾಬೂನು ಸಹ ಇದೇ. ಶ್ರೀಗಂಧದ ನಾಡು ಕರುನಾಡು. ಹಿಂದೆ ಜಗತ್ತಿನ ಎಲ್ಲೆ ಕಡೆ ಶ್ರೀಗಂಧವು ರಫ್ತು ಆಗುತ್ತಿತ್ತು. ಮೊದಲನೇ ಮಹಾಯುದ್ಧದ ಫಲವಾಗಿ ಯೂರೋಪ್ ಮೊದಲಾದ ಕಡೆಗೆ ಶ್ರೀಗಂಧವು ರಫ್ತು ಆಗದೆ, ಭಾರಿ ಪ್ರಮಾಣದಲ್ಲಿ ಶ್ರೀಗಂಧವು ರಾಜ್ಯದಲ್ಲಿ ಸಂಗ್ರಹವಾಯಿತು. ಇದರ ಸುವಾಸನೆಯ ಸದುಪಯೋಗ ಮಾಡುವಂತೆ ದಿವಾನರಾದ ಸರ್.ಎಂ.ವಿ. ಅವರ 'ಗಂಧದ ಎಣ್ಣೆ' ತಯಾರಿಸುವ ಪ್ರಸ್ತಾವಕ್ಕೆ ನಾಲ್ವಡಿ ಕೃಷ್ಣರಾಜ ಒಡೆಯರು ಅನುಮತಿಯನ್ನು ನೀಡಿದರು. ಇದನ್ನು ದ್ರವ್ಯದ ಚಿನ್ನ' ಎಂದು ಕರೆಯಲಾಯಿತು. ಇದೆ ಸಮಯದಲ್ಲಿ ಪ್ಯಾನ್ಸ್ ದೇಶದ ಇಬ್ಬರು ಅತಿಥಿಗಳು ಮಹಾರಾಜರಿಗೆ 'ಎರಡು' ಶ್ರೀಗಂಧದ ಸಾಬೂನನ್ನು ಉಡುಗೊರೆಯಾಗಿ ನೀಡಿದರು. ಆಗ ರಾಜರು ಶ್ರೀಗಂಧದ ಎಣ್ಣೆಯನ್ನು ತಯಾರಿಸುವುದರೊಂದಿಗೆ ಸಾಬೂನು ತಯಾರಿಸುವ ಯೋಜನೆಗೆ ಮುನ್ನುಡಿ ಹಾಕಿದರು. 'ಸೋಸಲೆ ಗರ್ಲಾಫುರಿ ಶಾಸ್ತ್ರೀ' ಎನ್ನುವ ಯುವ ಕೈಗಾರಿಕೆಯ ರಸಾಯನ ಶಾಸ್ತ್ರಜ್ಞನನ್ನು ಇಂಗ್ಲೆಂಡ್ ಗೆ ಹೆಚ್ಚಿನ ಅಧ್ಯಯನಕ್ಕೆ ಕಳುಹಿಸಿ, ಅವರು ಹಿಂದುರುಗಿದ ನಂತರ ೧೯೧೬ ರ ಮೇ ತಿಂಗಳಿನಲ್ಲಿ ಕೆ.ಆರ್.ವೃತ್ತದ ಬಳಿ ಮೈಸೂರು ಸಂಸ್ಥಾನದ ಅಪ್ಪಟ ಶ್ರೀಗಂಧದ ಎಣ್ಣೆಯಿಂದ ಪ್ರಪ್ರಥಮ ಸಾಬೂನು ಕಾರ್ಖಾನೆ ಆರಂಭವಾಯಿತು. ನಂತರದಲ್ಲಿ ಶ್ರೀಗಂಧದ ಸುಗಂಧದ ದ್ರವ್ಯವನ್ನು ಶಾಸ್ತ್ರೀಯವರು ತಯಾರಿಸಿದರು.

ಸೋಸಲೆ ಗರ್ಲಾಫುರಿ ಶಾಸ್ತ್ರೀಗಳು ಒಡವೆ ಪ್ರಿಯ ಭಾರತೀಯರ ಗಮನವನ್ನು ಸೆಳೆಯಲು ಆಭರಣದ ಪೆಟ್ಟಿಗೆಯಂತೆ 'ಮೈಸೂರು ಸ್ಯಾಂಡಲ್ ಸೋಪ್' ಕವರನ್ನು ತಯಾರಿಸಿದರು. ಸೋಪ್ ಅನ್ನು ಮೊಟ್ಟೆ ಆಕಾರದಲ್ಲಿ ತಯಾರಿಸಿದರು. ಇದರ ಮೇಲೆ ಎಂಟು ಕಾಲುಗಳುಳ್ಳ ಸಿಂಹ ದೇಹದ, ಆನೆಯ ಶಿರೆಯುಳ್ಳ ಕಾಲ್ಪನಿಕ ಪ್ರಾಣಿಯ

ವಿಶಿಷ್ಟ ಮುದ್ರೆಯನ್ನು ಸೃಷ್ಟಿಸಿದರು. ಅದರ ಪೆಟ್ಟಿಗೆಯ ಮೇಲೆ 'ಶ್ರೀಗಂಧದ ತವರಿನಿಂದ' ಎಂದು ಮುದ್ರಿಸಿದರು. ಇದರಿಂದ ಉತ್ತಮ ಪ್ರಚಾರವಾಯಿತು. ಜನಸಾಮಾನ್ಯರಿಂದ ರಾಜಮನೆತನದ ತನಕ ಜನಪ್ರಿಯವಾಗಿತ್ತು. ಹಾಗೂ ಬೇಡಿಕೆಯೂ ಹೆಚ್ಚಿತು. ಇಂದಿಗೂ ವಿದೇಶಿಯರು ಭಾರತಕ್ಕೆ ಬಂದಾಗ ತಮ್ಮ ದೇಶಕ್ಕೆ ತೆಗೆದುಕೊಂಡು ಹೋಗುವ ವಸ್ತು ಎಂದರೆ ೧೦೦% ಶುದ್ಧವಾದ ಶ್ರೀಗಂಧದ ಎಣ್ಣೆಯಿಂದ ತಯಾರಾದ ಸಾಬೂನು 'ಮೈಸೂರ್ ಸ್ಯಾಂಡಲ್ ಸೋಪ್'

### ಪ್ರಶ್ನೆಗಳು

1. ಯುವ ಕೈಗಾರಿಕೆಯ ರಸಾಯನ ಶಾಸ್ತ್ರಜ್ಞ \_\_\_\_\_
  ೧. 'ಸೊಸಲೆ ಗರ್ಲಾಪುರಿ ಶಾಸ್ತ್ರೀ' ೨. ಸರ್.ಎಂ.ವಿ
  ೩. ನಾಲ್ವಡಿ ಕೃಷ್ಣರಾಜ ಒಡೆಯರು ೪. ಡಿ.ವಿ.ಜಿ
2. ಭಾರಿ ಪ್ರಮಾಣದಲ್ಲಿ ಶ್ರೀಗಂಧವು ಮೈಸೂರು ಸಂಸ್ಥಾನದಲ್ಲಿ ಸಂಗ್ರಹವಾಗಲು ಕಾರಣ \_\_\_\_\_
  ೧. ಈ ನಾಡು ಶ್ರೀಗಂಧದ ತವರು ಮನೆ ೨. ಮೊದಲನೇ ಮಹಾಯುದ್ಧದ ಫಲವಾಗಿ
  ೩. ಶ್ರೀಗಂಧದ ಸುವಾಸನೆಯು ಇಷ್ಟವಾಗಿತ್ತು ೪. ಹೆಚ್ಚು ಅಮದು ಮಾಡಿಕೊಂಡಿದ್ದರಿಂದ
3. ರಾಜರು ಶ್ರೀ ಗಂಧದ ಎಣ್ಣೆ ತಯಾರಿಸುವ ಯೋಜನೆಗೆ ಮುನ್ನುಡಿ ಹಾಕಲು ಕಾರಣ \_\_\_\_\_
  ೧. ಶ್ರೀಗಂಧದ ಎಣ್ಣೆ ಅಪಾರವಾಗಿತ್ತು
  ೨. ಸಾಬೂನಿಗೆ ಬೇಡಿಕೆಯಿತ್ತು
  ೩. ಪ್ರಾನ್ಸ್ ದೇಶದ ಅತಿಥಿಗಳು ನೀಡಿದ ಶ್ರೀಗಂಧದ ಸಾಬೂನು ಉಡುಗೊರೆ
  ೪. ಶ್ರೀಗಂಧ ರಫ್ತು ಆಗದೆ ಉಳಿದಿದ್ದರಿಂದ
4. 'ಸೊಸಲೆ ಗರ್ಲಾಪುರಿ ಶಾಸ್ತ್ರೀ' ಅವರು ತಯಾರಿದ್ದು
  ೧. ಶ್ರೀಗಂಧದ ಎಣ್ಣೆ ೨. ಶ್ರೀಗಂಧದ ಸುಗಂಧ ದ್ರವ್ಯ ೩. ಶ್ರೀಗಂಧದ ಎಣ್ಣೆಯ ಸಾಬೂನು
  - ಅ) ಉತ್ತರಯಾದ ಉತ್ತರ ೧ ಮತ್ತು ೩ ಆ) ಉತ್ತರಯಾದ ಉತ್ತರ ೨ ಮತ್ತು ೩
  - ಇ) ಉತ್ತರಯಾದ ಉತ್ತರ ೧ ಮತ್ತು ೨ ಈ ) ಉತ್ತರಯಾದ ಉತ್ತರ ೧, ೨ ಮತ್ತು ೩
5. 'ಮೈಸೂರು ಸ್ಯಾಂಡಲ್ ಸೋಪ್' ನ ಜನಪ್ರಿಯತೆ ಮತ್ತು ಬೇಡಿಕೆ ಹೆಚ್ಚಾಗಲು \_\_\_\_\_
  ೧. ಕರ್ನಾಟಕದಲ್ಲಿ ತಯಾರಾಗುತ್ತಿತ್ತು.
  ೨. ನಾಲ್ವಡಿ ಕೃಷ್ಣರಾಜರು ಎಲ್ಲರೂ ಬಳಸುವಂತೆ ಆಜ್ಞೆ ಮಾಡಿದರು.
  ೩. ವಿದೇಶಿಯರು ಭಾರತಕ್ಕೆ ಬಂದಾಗ ತಮ್ಮ ದೇಶಕ್ಕೆ ತೆಗೆದುಕೊಂಡು ಹೋಗುವರು ಎಂದು.
  ೪. ಉತ್ತಮ ಪ್ರಚಾರ, ಅಂದವಾದ ಆಭರಣದ ಕವರ್, ಮೊಟ್ಟೆ ಆಕಾರ ಹಾಗೂ ಅದರ ಸುವಾಸನೆ.

2. ಕೆಳಗಿನ ಪ್ರತಿಯೊಂದು ಪ್ರಶ್ನೆಗಳಿಗೆ ನಾಲ್ಕು ಉತ್ತರವನ್ನು ಕೊಡಲಾಗಿದೆ. ಅವುಗಳಲ್ಲಿ ಸರಿಯಾದ ಪದವನ್ನು ಆರಿಸಿ ಬರೆಯಿರಿ.

1x7=7

I. 'ಮೃಷಾನ್ವ' ಇದು ಈ ಸಂಧಿಗೆ ಉದಾರಹಣೆ \_\_\_\_\_

- 1) ಸರ್ವಣದೀರ್ಘ ಸಂಧಿ    2) ಲೋಪ ಸಂಧಿ    3) ಆದೇಶ ಸಂಧಿ    4) ಗುಣ ಸಂಧಿ

II. 'ಸದ್ಗತಿ' ಇದರ ವಿರುದ್ಧ ಪದ \_\_\_\_\_

- 1) ಸಮಾಧಾನ    2) ದುರ್ಗತಿ    3) ಸದ್ಗುಣ    4) ದುರಭಿಮಾನ

III. 'ಸಬ್ಬವಕಾರ' ಈ ಪದದ ಸಮಾನಾರ್ಥಕ ಪದ.

- 1) ಹಾಸ್ಯಗಾರ    2) ಕವಿ    3) ಮುನಿ    4) ಬಳೆಗಾರ

IV. 'ಕಬ್ಬದೊಳ್' ಈ ಪದದಲ್ಲಿರುವ ಪ್ರತ್ಯಯ ಈ ವಿಭಕ್ತಿಗೆ ಸೇರಿದೆ

- 1) ಪ್ರಥಮಾ    2) ಷಷ್ಠೀ    3) ಸಪ್ತಮೀ    4) ತೃತೀಯಾ

V. ಪ್ರಯಾಣಿಕರು ಹಳ್ಳಿ ಬಂಡಿಯಲ್ಲಿ ನಿಲ್ಲಾಣದತ್ತ ಸಾಗಿದರು, ಗೆರೆ ಎಳೆದ ಪದದ ವಿಶೇಷತೆ ಗುರುತಿಸಿ.

- 1) ದಿಗ್ವಾಚಕ    2) ಗುಣವಾಚಕ    3) ಸಂಖ್ಯಾವಾಚಕ    4) ಸಂಖ್ಯೆಯವಾಚಕ

VI. ಕೆಳಗೆ ಕೊಟ್ಟಿರುವ ತತ್ಸಮ - ತದ್ಭವಗಳ ಸರಿಯಾದ ರೂಪವನ್ನು ಗುರುತಿಸಿ

೧. ಕಾವ್ಯ - ಕಬ್ಬ

೨. ಅಶ್ವರ್ಯ - ಅಚ್ಚರಿ

೩. ಕಾರ್ಯ - ಕೆಲಸ

೪. ಭಕ್ತಿ - ಭಕ್ತ.

- 1) ೧ ಮತ್ತು ೩    2) ೨ ಮತ್ತು ೪    3) ೨ ಮತ್ತು ೩    4) ೧ ಮತ್ತು ೨

VII. ಅವನು : ಪ್ರಥಮ ಪುರುಷಾರ್ಥಕ ಸರ್ವನಾಮ :: ನಾನು : \_\_\_\_\_

- 1) ಆತ್ಮಾರ್ಥಕ    2) ಪ್ರಶ್ನಾರ್ಥಕ    3) ಉತ್ತಮ ಪುರುಷ    4) ಮಧ್ಯಮ ಪುರುಷ

1X3=3

3. ಕೆಳಗಿನವುಗಳನ್ನು ಸೂಚಿಸಿದಂತೆ ಬರೆಯಿರಿ:

1. ರಾಜನು ಪ್ರಜೆಗಳನ್ನು ತನ್ನ ಮಕ್ಕಳಂತೆ ಕಂಡನು. ( ವಾಕ್ಯವನ್ನು ಭವಿಷ್ಯತ್ ಕಾಲದಲ್ಲಿ ಬರೆಯಿರಿ)

2. ಈ ಕೆಳಗಿನ ಗಾದೆ ಮಾತಿನ ಅರ್ಥವನ್ನು ಬರೆಯಿರಿ.

'ನಾಲಿಗೆ ಒಳ್ಳೆಯದಾದರೆ ನಾಡೆಲ್ಲ ಒಳ್ಳೆಯದು'

3. ಕೃವಶ ( ನುಡಿಗಟ್ಟು ಬಳಸಿ ಸ್ವಂತ ವಾಕ್ಯದಲ್ಲಿ ಬರೆಯಿರಿ.

4. ಕೆಳಗೆ ಕೊಟ್ಟಿರುವ ಯಾವುದಾದರೂ ಒಂದು ವಿಷಯವನ್ನು ಕುರಿತು ಪ್ರಬಂಧ ಬರೆಯಿರಿ.

4

೧. ಆಟಗಳ ಮಹತ್ವ

೨. ನಿಮ್ಮ ಹವ್ಯಾಸ

5. ಈ ಕೆಳಗಿನ ಪ್ರಶ್ನೆಗಳಿಗೆ ಎರಡು / ಮೂರು ವಾಕ್ಯಗಳಲ್ಲಿ ಉತ್ತರಿಸಿರಿ.

2X2= 4

1. ತನ್ನ ಆಶ್ರಮಕ್ಕೆ ಬಂದ ಅತಿಥಿಗಳನ್ನು ಅರಣ್ಯಕ ಹೇಗೆ ಸತ್ಕರಿಸಿದರು?

2. ಭಟ ಮತ್ತು ದ್ವಿಜರ ಲಕ್ಷಣಗಳೇನು?

6. ಈ ಕೆಳಗಿನ ಸಂದರ್ಭಗಳನ್ನು ಸ್ವಾರಸ್ಯದೊಡನೆ ವಿವರಿಸಿ.

3

1. 'ಉಡುರಾಜ ಕಳೆಗುಂದಿ ಪೆರ್ಚದಿಹನೆ'

7. ಕೆಳಗಿನ ಪ್ರಶ್ನೆಗೆ 8-10 ವಾಕ್ಯಗಳಲ್ಲಿ ಉತ್ತರಿಸಿ.

4

1. ಮುದ್ದಣ ಪರಿಹಾಸ್ಯ ಮಾಡಿದನೆಂದು ಮನೋರಮೆ ಹೇಳಲು ಕಾರಣವೇನು?

\*\*\*\*\*



SINDHI HIGH SCHOOL, K.K. ROAD BENGALURU – 01

SUBJECT: HINDI

CLASS : 8

THIRD PERIODIC TEST

TIME – 1hr

Date: 12 . 01 . 2024

MARK – 30

No of printed sides: 3

Reading time:8.00-8.10am

Writing time: 8.10-9.10am

I निम्नलिखित गद्यांश को पढ़कर पूछे गए प्रश्नों का सही उत्तर लिखिए :- (5)

सत्साहसी व्यक्ति में एक गुप्त शक्ति रहती है, जिसके बल से वह दूसरे मनुष्य को दुःख से बचाने के लिए प्राण तक देने को तैयार हो जाता है। धर्म, देश, जाति और परिवार वालों के ही लिए नहीं, किन्तु संकट में पड़े हुए अपरिचित व्यक्ति के सहायतार्थ भी उसी शक्ति की प्रेरणा से वह हमारे संकटों का सामना करने को तैयार हो जाता है। अपने प्राणों की परवाह नहीं करता। हर प्रकार के क्लेशों को प्रसन्नतापूर्वक सहता है और स्वार्थ के विचारों को वह फटकने तक नहीं देता। सत्साहस के लिए अवसर की राह देखने की आवश्यकता नहीं, क्योंकि साहस दिखाने का अवसर प्रत्येक मनुष्य के जीवन में पल-पल में आया करता है। देश, काल और कर्तव्य का विचार करना चाहिए और स्वार्थरहित होकर साहस न छोड़ते हुए कर्तव्य-परायण बनने का प्रयत्न करना चाहिए।

(क) सत्साहसी व्यक्ति के पास कौन-सी शक्ति रहती है?

- (i) दैवी शक्ति (ii) धन की शक्ति  
(iii) गुप्त शक्ति (iv) शारीरिक शक्ति

(ख) सत्साहसी व्यक्ति इनका मुकाबला करने को तैयार हो जाता है

- (i) संकटों का (ii) विरोधियों का  
(iii) कमजोर व्यक्तियों का (iv) सबका

(ग) किसे सत्साहसी व्यक्ति अपने पास फटकने तक नहीं देता ?

- (i) प्रसन्नता के विचार (ii) स्वार्थ के विचारों  
(iii) सहायता के विचार (iv) सहयोग के विचार

(घ) साहस दिखाने का अवसर कब आता है?

- (i) कभी-कभी आता है (ii) कभी नहीं आता है  
(iii) केवल एक बार आता है (iv) पल-पल में आया करता है



(ह) उपयुक्त अवतरण का उपयुक्त शीर्षक है -

- (i) परोपकार (ii) अवसर  
(iii) सत्साहस (iv) संकटों का सामना

II निम्नलिखित शब्दों के दो-दो पर्यायवाची लिखो - (२)

- i) कामदेव ii) शत्रु

III) दिए गए भिन्नार्थक शब्दों का अर्थ द्वारा अंतर स्पष्ट कीजिए - (२)

- i) उपयुक्त / उपयुक्त  
ii) कपट / कपाट

IV एकार्थक प्रतीत होने वाले शब्दों का वाक्य द्वारा अंतर स्पष्ट कीजिए ( 2)

- i) निर्णय / न्याय

V विशेषण पहचानकर उसका का भेद लिखिए - (१)

- i) मेरी कक्षा में पाँच लड़के हैं।  
ii) उसका भाई बुद्धिमान है।

VI दिए गए मुहावरे का अर्थ लिखो - (१)

- i) बात बाँका न होना  
ii) 'मुँह में पानी आना' मुहावरे का प्रयोग करके वाक्य बनाओ

VII अशुद्ध वाक्य को शुद्ध कीजिए। (1)

- i) वर्षा होने पर फसल अच्छा होगा

VIII निम्नलिखित प्रश्नों के उत्तर लिखिए - (१+१=२)

- i) साइकिल आंदोलन से पुढुकोट्टई की महिलाओं के जीवन में कौन-कौन से बदलाव आए हैं?  
ii) 'सासा झाऊसास जी ने फौरन दो और दो जोड़कर स्थिति को समझ लिया।' आपके विचार से सासा झाऊसास ने कौन-कौन सी बातें समझ ली होंगी?

3) प्रारंभ में इस साइकिल आंदोलन को चलाने कौन-कौन सी बाधा आई ?

**IX पूरक पाठ्य पुस्तक (भारत एक खोज) के आधार पर प्रश्नों के उत्तर लिखिए**

1) भारत में स्वतंत्र प्राप्ति हेतु किन दो गुटों ने जन्म लिया ? (1)

2) भारत पर अत्यधिक तनाव का समय कौन सा था ? (1)

3) भारत में कभी जातीय सवाल न उठने का कारण क्या था ? (1)

**X बस कर्मचारी के अशिष्ट व्यवहार की शिकायत करते हुए बेंगलूरु परिवहन निगम के प्रबंधक को पत्र लिखिए । (5)**

-----X-----

X-----



SINDHI HIGH SCHOOL BENGALURU.

III PERIODIC TEST- 2023-24

III LANGUAGE SAMSKRUTAM

NAME \_\_\_\_\_ ROLL NO \_\_\_\_\_ MARKS -10

Date - 13/2/2024

Writing time : 30 min

Class 8 A B C

NO OF PRINTED SIDES - 02

I. अधोलिखित गद्यांशम् पठित्वा प्रश्नानाम् उत्तराणि लिखित :-

सा यदा त्रिहायनोऽभवत् तदा तस्य पिता दुर्देवात् कालवशं गतः। जननी आर्याम्बा पत्युर्वियोगेन खिन्नापि महातेजस्विशिशुरक्षणे बद्धाधराभवत्। पञ्चमवत्सरे बन्धुभिस्तस्योपनयनं कारायामास। अनुपदमेव गुरुकुलमुपनीतः स वटुः द्वित्रैरेव वर्षैः सर्वान् वेदान्, वेदाङ्गानि, विविधा भाषाश्च, अधीतवान्। अधीत्य च सर्वाणि शास्त्राणि अष्टहायनः कुमारः जगदिदं परिदृश्यमानं मृगतृष्णिकाकल्पमिति निश्चित्य सर्वसंन्यासे दृढमतिरभूत्। तदेकपुत्रा माता तस्येच्छां नान्वमन्यत। अथापि स कथञ्चित् तस्याः सम्मत्तवाप्य, गृहं परित्याज्याव्रजत् सदगुरुं गवेष्यमाणः।

अ. एक वाक्येन उत्तर :-

(1x2=2)

१. शङ्कराचार्यः द्वित्रैरेव वर्षे किम् अधीतवान्?

२. अष्टहायनः कुमारः शङ्करः किमिति निश्चितवान्?

आ. भाषिकं कार्यम् :-

(½x2=1)

१. 'विविधाः भाषाः' इत्यनयोः विशेषणं पदं अस्ति - \_\_\_\_\_

२. अधीत्य इत्यत्र एषः प्रत्ययः अस्ति - \_\_\_\_\_

II. विभक्ति वचनानि लिखत।

(½x4=2)

१. उदीच्याम् - \_\_\_\_\_

२. ग्रन्थान् - \_\_\_\_\_

III. विभज्य, संयोज्य लिखत:- (½x2=1)

१. प्रातर्याविदागत्य - \_\_\_\_\_

२. स्वजनैश्च - \_\_\_\_\_

IV. पर्यायपदानि लिखत :- (½x2=1)

१. गृहम् - \_\_\_\_\_

२. भजङ्गमः - \_\_\_\_\_

V. चतुर्थपदम् लिखत :- (½x4=2)

१. मानवः - गृहम् :: सर्पः \_\_\_\_\_

२. क्षत्रपालः - सर्पः :: ब्राह्मणः \_\_\_\_\_

३. याचित्वा - क्त्वा प्रत्ययः :: निक्षिप्य \_\_\_\_\_

४. गृह्णाद्भि - प्रथमपुरुषः :: गृहीष्यामि \_\_\_\_\_

VI. पुरुषं वचनं च लिखत :- (½x2=1)

१. वससि - \_\_\_\_\_

\*\*\*\*\* शुभमस्तु \*\*\*\*\*



SINDHI HIGH SCHOOL, K.K. ROAD, BENGALURU.

Periodic Test-3 2023-2024

Subject: Mathematics

Class: VIII

Max marks: 30

Date: 8/02/2024

Reading time: 8 - 8:10am

No. of printed sides: 3

Writing time: 8:10 - 9:10am

**GENERAL INSTRUCTIONS**

All questions are compulsory.

Part - A consists of 6 mcqs carrying 1 mark each.

Part - B consist of 3 short answer questions carrying 2 marks each

Part - C consist of 3 short answer questions carrying 3 marks each

Part - D consist of 1 questions carrying 5 marks

Part - E consists of one case study question carrying  $1+2+1 = 4$  marks

S no.	<u>Part A</u>	Marks
1.	The percentage of 1:4 is: A) 75%                  B) 50%                  C) 25%                  D) 100%	1
2.	The ratio of 10m to 20 km is: A) 1:20                  B) 1:2000                  C) 1:200                  D) 10:20	1
3.	Out of 40 students, 75% passed in a class. How many students did actually fail? A) 10                  B) 20                  C) 30                  D) 40	1
4.	The shopkeeper purchased two refrigerators for ₹9800 and ₹ 8200 respectively. He sold them for ₹16920. Find the loss amount. A) ₹1020                  B) ₹1080                  C) ₹1000                  D) ₹1180	1
5.	The area of a rhombus is $240 \text{ cm}^2$ and one of the diagonals is 16 cm. Find the length of the other diagonal. A) 16 cm                  B) 20 cm                  C) 30 cm                  D) 36 cm	1

6.	<p>Assertion (A): Saroj purchased a fan for ₹1000 and sold it for ₹ 1200. Profit = ₹ 400.</p> <p>Reasons (R): Profit = S.P. – C.P.</p> <p>a) Both A and R are true and R is the correct explanation of A</p> <p>b) Both A and R are true but R is not the correct explanation of A</p> <p>c) A is true but R is false</p> <p>d) A is false but R is true</p>	1
<u>Part B</u>		
7.	<p>Find the area of the quadrilateral ABCD in which AC = 22 cm, BM = 15 cm, DN = 12 cm, and BM ⊥ AC, DN ⊥ AC.</p>	2
8	<p>Find the discount per cent, if the marked price of an article is ₹2,700 and its selling price is ₹2,160</p>	2
9.	<p>Find the value of x if a) 23% of 550 = X b) 42% of x = 168</p>	2
<u>Part C</u>		
10.	<p>A school garden has 500 plants. Out of these 10% are roses, 5% are lilies, 2% are guava and 3% are grape fruit. What per cent are the other plants in the school? Find the exact number each type of the plant.</p>	3
11.	<p>The population of a city was 20,00,000 in 2023. If the population grows at the rate of 2%, what is the expected population in 2025?</p>	3

12. Find the area of the given figure. 3

Part D

13. A customer made following purchases from a departmental store. Fill in the blank and Calculate his total bill. 5

Items	Quantity	Rate per item	Rate of VAT	Total Rate including Tax
Pair of shoes	2	₹800	5%	?
Tea set	?	₹600	4%	₹1872
Water bottle	1	?	4%	₹312

Part E  
Case study

14. Raman sold a watch for ₹990 after allowing the discount of 10%. He sold a Radio at the same price at 10% discount.

Based on the above information answer the following Questions

a) Find the amount received by Raman by selling both the items. 1

b) What is the marked Price of the Watch/Radio and exact discount amount announced for Watch/Radio? 2

c) Find the total reduced amount allowed for both the items. 1



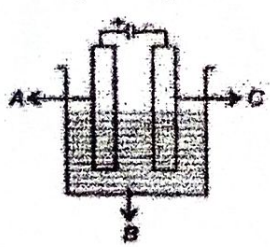
**SINDHI HIGH SCHOOL, K K ROAD, BANGALORE**  
**PERIODIC TEST-3: (2023-2024)**  
**SUBJECT- SCIENCE**

**Class: VIII**  
**Date: 9.2.2024**  
**No. of sides: 4**



**Max marks: 30**  
**Timings: 8:00 am to 9:10 am**  
**Reading Time: 8:00 am to 8:10 am**  
**Writing Time: 8:10 am to 9:10 am**

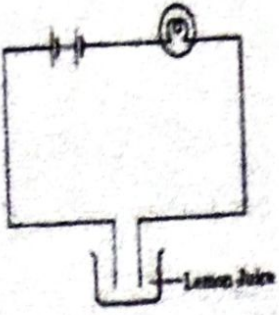

**GENERAL INSTRUCTIONS:**

- (i) All questions are compulsory.
- (ii) Section A- All question numbers 1 to 6 carrying one-mark comprises of MCQ and the Assertion - Reason type questions.
- (iii) Section B- Question numbers 7 to 9 are short questions, carrying 3-marks each.
- (iv) Section C- Question numbers 10 to 12, long answer type questions carrying 5 markseach.

S No	Questions	Marks
	<b>Section A</b>	
	<b>Choose the correct answer</b>	
1	Electric current is to be passed from one body to another. For this purpose, the two bodies must be joined by (a) cotton thread (b) plastic string (c) copper wire . (d) rubber band	1
2	In the given figure, electrolyte, anode and cathode respectively are  a) A, B and C                      b) B, A and C c) B, C and A                      d) A, C and B	1
3	In the list of animals given below, hen is the odd one out. 'human being, cow, dog, hen' The reason for this is (a) it undergoes internal fertilisation	1



	(b) it is oviparous (c) it is viviparous (d) it undergoes external fertilisation	
	<b>NOTE: In the following questions 4-6, a statement of Assertion is followed by a statement of Reasoning. Choose the correct answer from the following options.</b> a) Both assertion and reason are correct statements, and reason is the correct explanation for assertion. b) Both assertion and reason are correct statements but reason is not the correct explanation for assertion. c) Assertion is correct but reason is the wrong statement. d) Assertion is wrong but reason is the correct statement.	
4	<b>Assertion-</b> Electrical charge can be transferred from a charged object to another through a metal conductor <b>Reason-</b> Metal is a bad conductor of electricity.	1
5	<b>Assertion :</b> The bubbles of a gas may be formed on the electrodes. <b>Reason:</b> The passage of an electric current through a conducting solution causes chemical reaction.	1
6	<b>Assertion:</b> There are two types of reproduction- sexual and asexual reproduction. <b>Reason:</b> in sexual reproduction two parents are involved.	1
<b>Section B</b>		
7	(a) If the metal clip used in the electroscope is replaced by an ebonite rod and a charged body is brought in contact with it, will there be any effect on the aluminium strips? Explain.  (b) Mention the reason of two different diagrams given below  <div style="display: flex; justify-content: space-around; align-items: center;"> <div style="text-align: center;">  <p>A</p> </div> <div style="text-align: center;">  <p>B</p> </div> </div>	3

8	<p>In the given diagram a circuit is used to test whether lemon juice is good or bad conductor of electricity.</p>  <p>a. What will be your answer? Justify your answer  b. What will happen if lemon juice is replaced by sugarcane juice and honey? Justify</p>	3
9	Illustrate binary fission in amoeba.	3
<b>Section C</b>		
10	 <p>(a) Identify the figure shown above. Explain its working principle and write any two uses of it.  (b) Why do mountaineers suffer from nose bleeding at high altitudes?</p>	5
11	<p>(a) Describe the functioning of LED  (b) Is it safe for the electrician to do electrical repairs outdoors during heavy downpours? Explain.  (c) Distilled water is a poor conductor of electricity. Justify</p>	5



**SINDHI HIGH SCHOOL K K ROAD**

**III Periodic Test 2023-24**

**Social Science**

Class: 8

Date: 6/2/24

No of sides: 02

Max Marks: 30

Duration: 1 hours

Reading time: 8am- 8.10am

Writing time : 8.10am – 9.10am

**Multiple choice questions**

(1X6=6M)

- 1 William Adam toured the district of
  - a Bihar and Orissa
  - b. Bihar and Bengal
  - c. Bengal and Rajasthan
  - d. Orissa and Madhya Pradesh
2. Sabeer Bhatia is an Indian-American businessman who co-founded the \_\_\_\_
  - a. webmail company gmail.com
  - b. webmail company Hotmail.com
  - c. webmail company yahoo.com
  - d. webmail company Ask.com
3. Who cannot avail reservations?
  - a. Brahmanas
  - b. Dalits
  - c. Adivasis
  - d. Backward and most backward castes
4. Who out of the following are facing inequality due to Marginalisation?
  - a. Dalits
  - b. Women
  - c. Adivasi's
  - d. All of the above

5. Manufacturing is a \_\_\_\_\_ activity
- Primary
  - Natural
  - Agricultural
  - Secondary
6. The Industries which are owned and operated by individual or a group of individuals is called.
- Private sector
  - State owned
  - Joint sector
  - Cooperative sector
7. Mahatma Gandhiji thought that English education has enslaved Indians. Analyse. (3M)
8. Describe Article 17 of the Constitution. (3M)
9. a. Mention any two facilities provided by the government which help industries to be located in backward area? (1M)
- Explain the working of an industrial system by giving an example. (2M)
- 10.a According to James Mill what should be the aim of education? (2M)
- What was the condition of pathshalas where William Adam toured? (3M)
- 11 a. List two fundamental rights in the Constitution that Dalits can draw upon to insist that they should be treated with dignity and as equals. (2M)
- How does the reservation policy work? (3M)
12. Define Industry and explain how industries may be depending on the type of raw materials they use. (1M+4M)